


Probe aus HSU

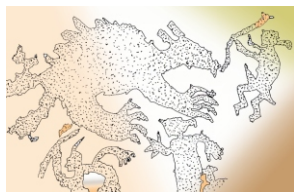
1. **Fossilien** sind haltbar gemachte Reste von _____ 2P

Sie können dadurch entstehen, dass ein Lebewesen:

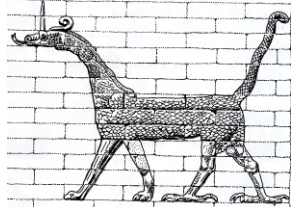
_____ (z.B. Mammuts) 

_____ (Bernstein) 

_____ (Torfleichen) 



2. Weltweit gibt es Drachensagen und Höhlenmalereien. Die Ähnlichkeiten zwischen Drachendarstellungen und Sauriern sind verblüffend. Welche Ähnlichkeiten erinnern an einen Saurier? 4P



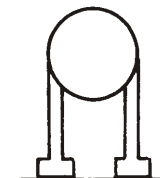



恐龍




3. Was bedeutet der Name Dino (gr. deinosauros) _____ und Saurier (gr. sauros) _____? 2P

4. Ordne den verschiedenen Beinstellungen die passende Tierart zu!



5. Dinosaurier hatten keine _____, sondern Schuppen und legten _____, ähnlich wie die Echsen und Schlangen. 5P

6. In der Bibel gibt es in dem Buch _____ Kapitel _____ Vers 15 - 24 eine Beschreibung eines Dinosauriers: _____.

7. Mit welchen fünf Eigenschaften beschreibt Hiob den Dinosaurier? 





5P



Name: _____ Datum: _____ Kl. _____ Fach: _____

Punkte: _____ Note: _____ Unterschrift: _____

25P