


Jedes Blatt hat ein Schattenblatt!




Bergahorn



Essigbaum




Eberesche




Birnbaum




Walnuss




Haselnuss




Linde



Kirsche



Kastanie



Walnuss



Kirsche



Essigbaum



Linde



Birnbaum



Kastanie



Eberesche



Haselnuss



Bergahorn

Wieviel Bäume hast du gewusst?
1-4 Punkte: Butterfly
5-9 Punkte: Firefly

www.kreativerunterricht.de

Name: _____ Datum: _____ Kl. ____ Fach: _____

Suche zu den Buchstaben die passenden Zahlen und schreibe den Namen des Baumes dahinter!

Lösung: A9 Berg-Ahorn B6 Essigbaum C2 Eberesche D1 Birne E3 Walnuss
F7 Haselnuss G5 Linde H4 Kirsche I8 Kastanie