




A

Jedes Blatt hat ein Schattenblatt!




B



C



D



E




G




H



I



F



3



4

6



Wieviel Bäume
hast du gewusst?
1-4 Punkte: Butterfly
5-9 Punkte: Firefly

5



1



2



9



8



7



www.kreativerunterricht.de

Name: _____ Datum: _____ Kl. _____ Fach: _____

Suche zu den Buchstaben die passenden Zahlen und schreibe den Namen des Baumes dahinter!

Lösung: A9 Berg-Ahorn B6 Essigbaum C2 Eberesche D1 Birne E3 Walnuss
F7 Haselnuss G5 Linde H4 Kirsche I8 Kastanie